

Математические ребусы



Ребусы

По 2 л

У .

7 я

Лас .

100 лб

Р 1 а

100 лица

Э 100 ния

Чи 100 та


С 3 ж


А_к 2^{в-р} Т

40 о  100л

сзж 7я









ла100чка 7

уч ' 

бе  øё
IgraZa.ru

40А

1	И-100-РИЯ	2		3	100-Л
4	Д, 	5	5' 	6	Т  И = Я
7	Ми  о = у	8	 ” ” Ъ	9	ПЕ  Ь = А
10	' 8 м Н	11	чи 	12	$\frac{1}{\text{дцать}}$

 ” ” ЮГ	 
 ” ” 	 РО
 5 ” ” ТОК	” ” М И Г  А
Л = Ж ЛОЖЬ	100 ЯНКА

бе  ёё
IgraZa.ru

” ”  ” ”  ГИ

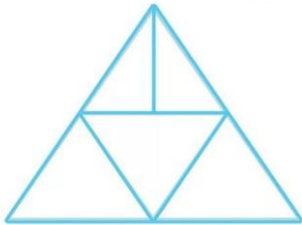
Математика в вопросах.

Цель: правильно ответить на вопросы.

Вопросы 5 класс

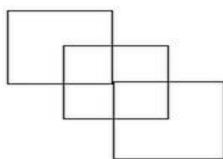
1. Сколько месяцев в году?
2. Напиши третий месяц летних каникул.
3. Сколько ног у трех петухов?
4. На березеросло 50 яблок. Подул сильный ветер, и 10 яблок упало. Сколько осталось?
5. Напиши число, следующее за числом 99.
6. Когда гусь стоит на двух ногах, он весит 4 кг. Сколько будет весить гусь, если встанет на одну ногу?
7. Увеличьте 30 в 2 раза.
8. Над рекой летели птицы: голубь, щука, 2 синицы, 2 стрижа и 5 угрей. Сколько птиц? Ответь скорей.
9. Сколько ушей у трех мышей?
- 10.

СКОЛЬКО ТРЕУГОЛЬНИКОВ ВИДИШЬ ТЫ ?



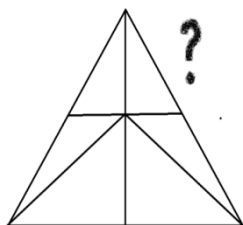
Вопросы 6 класс

1. Как называется результат сложения?
2. Уменьшаемое 80, вычитаемое 30, найти разность.
3. Сколько сантиметров в 1м?
4. Как называется прямоугольник, у которого все стороны равны?
5. Сколько ног у трех коров?
6. На березеросло 100 яблок. Подул сильный ветер, и 50 яблок упало. Сколько осталось?
7. Одно яйцо варят 4 минуты. Сколько минут надо варить 6 яиц?
8. Над рекой летели птицы: голубь, щука, 2 синицы, 3 стрижа и 5 ежей. Сколько птиц, ответь скорей.
9. Девять расписных матрешек: В каждой – 5 дочурок-крошек. Если бы все дочки рядом встали, Сколько бы вы их насчитали?
10. Сколько квадратов вы видите на рисунке? Напишите ответ.



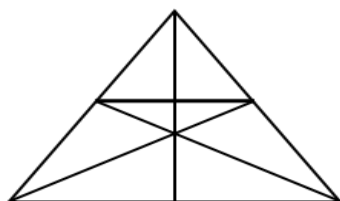
Вопросы 7 класс

1. На яблоне было 10 яблок, а на осине на 2 меньше. Сколько всего было яблок?
2. На столе лежало 4 яблока, одно яблоко разрезали пополам. Сколько яблок на столе?
3. Как называется прибор для измерения длины отрезков?
4. Как называется результат вычитания?
5. Сколько миллиметров в 1 м?
6. Как называется в дроби число под чертой?
7. Сколько хвостов у 42 быков?
8. Как называется фигура, не имеющая углов?
9. Сколько получится, если 20 увеличить в 3 раза?
10. Сколько треугольников вы видите на картинке? Напишите ответ.



Вопросы 8 класс

1. Как называется треугольник, у которого все стороны равны?
2. Как называется результат умножения?
3. К 4 десяткам и 3 единицам прибавить 7 единиц. Сколько получится?
4. Сколько часов в сутках?
5. Сколько ушей у 20 мышей?
6. Летела стая гусей, 2 впереди, 1 сзади, 2 сзади 1 впереди. Сколько было гусей?
7. Напишите 3 правильные дроби.
8. Сколько месяцев в году имеют 28 дней?
9. Росло 4 березы. На каждой березе по 4 больших ветки. На каждой большой ветке по 4 маленьких. На каждой маленькой ветке по 4 яблока. Сколько всего яблок?
10. Сколько треугольников вы видите на рисунке? Запишите ответ.



Вопросы 9класс

1. Сколько лет в веке?
2. Наименьшее четное число?
3. Как называется дробь у которой числитель больше знаменателя?
4. У Марины было 1 целое яблоко, 2 половинки и 4 четвертинки. Сколько у Марины яблок?
5. Как называются компоненты действия умножения?
6. Летела стая гусей, 2 впереди, 1 сзади, 2 сзади 1 впереди. Сколько было гусей?
7. Назовите наименьшее трехзначное число?
8. Как называется фигура, в которой шесть углов?
9. Как называется седьмой месяц?
10. Сколько треугольников вы видите на картинке? Напишите ответ.

